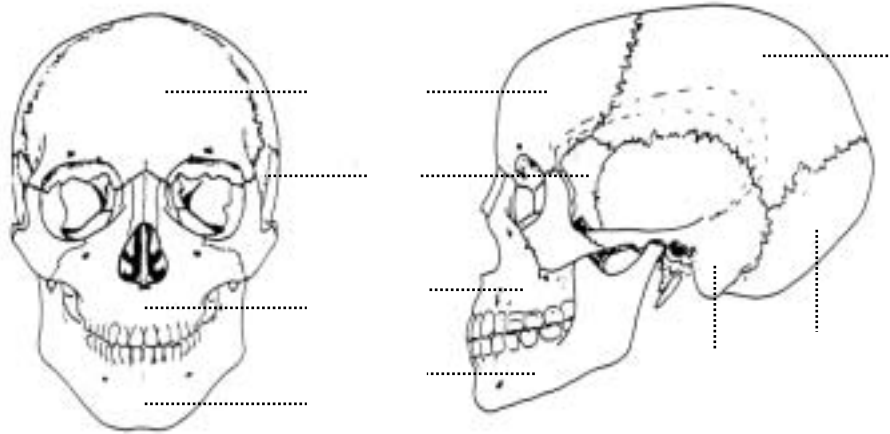


ACTIVITÉ 4 Les os du corps humain (suite)

(c) Vue frontale et latérale du crâne

En utilisant les termes donnés sur la gauche, remplissez les blancs avec les numéros appropriés sur la figure de droite. Les numéros peuvent être utilisés plusieurs fois.

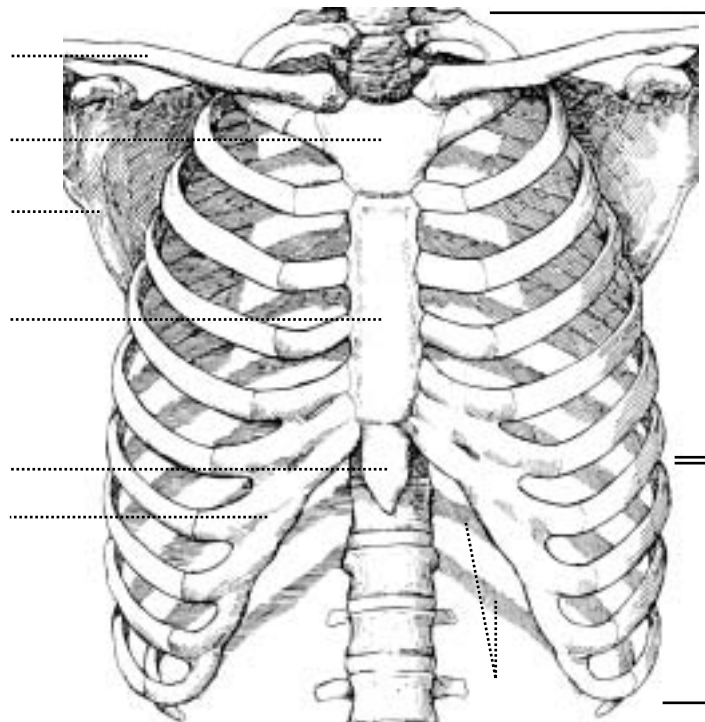
- 1 os frontal
- 2 mandibule
- 3 maxillaire
- 4 os occipital
- 5 os pariétal
- 6 os sphénoïde
- 7 os temporal




(d) Vue antérieure de la cage thoracique

En utilisant les termes donnés sur la gauche, remplissez les blancs avec les numéros appropriés sur la figure de droite.

- 1 clavicule
- 2 cartilage costal
- 3 fausses côtes
- 4 côtes flottantes
- 5 manubrium
- 6 scapula
- 7 corps du sternum
- 8 vraies côtes
- 9 processus xiphoïde





ACTIVITÉ 4 Les os du corps humain (suite)

(e) Vue latérale de la colonne vertébrale

Dans les espaces fournis, écrivez les segments de la colonne vertébrale indiqués sur la figure de droite.

1 _____

2 _____

3 _____

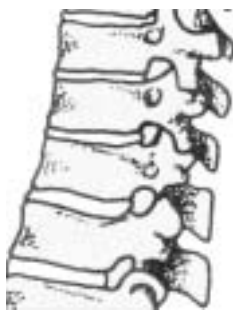
4 _____

5 _____

6 _____

7 _____

Encerclez la réponse appropriée qui correspond à la classification des os (selon la forme) de la colonne vertébrale.



- (a) Long
- (b) Court
- (c) Plat
- (d) Sésamoïde
- (e) Irrégulier

Donnez un exemple pour chacun des quatre autres types d'os non encadrés ci-dessus.

_____, e.g., _____

_____, e.g., _____

_____, e.g., _____

_____, e.g., _____

